

Concurso Público para provimento dos cargos do quadro de pessoal
Técnico-Administrativo em Educação da UFG - 2023

TECNÓLOGO/ÁREA: SEGURANÇA INSTITUCIONAL

CADERNO DE QUESTÕES

20/08/2023

DISCIPLINA	QUESTÕES
Língua Portuguesa	01 a 10
Matemática	11 a 20
Atualidades e História, Geografia e Conhecimentos Gerais de Goiás	21 a 25
Noções de Informática	26 a 30
Legislação	31 a 40
Conhecimentos Específicos do Cargo	41 a 60

SOMENTE ABRA ESTE CADERNO QUANDO AUTORIZADO

LEIA ATENTAMENTE AS INSTRUÇÕES

Atenção: Transcreva no espaço designado da sua FICHA DE IDENTIFICAÇÃO, com sua caligrafia usual, considerando as letras maiúsculas e minúsculas, a seguinte frase:

Que a Força esteja com você.

1. Quando for autorizado abrir o caderno de questões, verifique se ele está completo ou se apresenta imperfeições gráficas que possam gerar dúvidas. Se isso ocorrer, solicite outro exemplar ao (à) fiscal de sala.
2. Este caderno é composto por questões de múltipla escolha. Cada questão apresenta quatro alternativas de respostas, das quais apenas uma é a correta.
3. O cartão-resposta é personalizado e não será substituído em caso de erro no preenchimento. Ao recebê-lo, confira se seus dados estão impressos corretamente. Se houver erro de impressão, notifique o (a) fiscal de sala.
4. Preencha, integralmente, um alvéolo por questão, utilizando caneta de tinta AZUL ou PRETA, fabricada em material transparente. A questão deixada em branco, com rasura ou com marcação dupla terá pontuação ZERO.

CONCURSO PÚBLICO

Leia o Texto 1 para responder às questões de 01 a 04.

Texto 1**A Falência**

Julia Lopes de Almeida

Em caminho de casa, Francisco Teodoro, recostado em um bonde, persistia em querer ler um jornal da tarde, sentindo que as ideias lhe fugiam para um curso perigoso. O êxito do Torres quizilava-o. Parecia-lhe que o outro lhe taparia o caminho, impedindo-o de chegar ao seu último ponto de mira. Galgava-lhe de assalto a dianteira, para se quedar sempre na sua frente, como um obstáculo. Aquela conquista de fortuna, feita de relance, perturbava-o, desmerecia o brilho das suas riquezas, ajuntadas dia a dia na canseira do trabalho. A vida tem ironias: teria ele sido um tolo? Talvez, e para se certificar reviu a sua vida no Rio, desde simples caixeiro, quase analfabeto, com a cabeça raspada, a jaqueta russa e os sapatões barulhentos. Tinha ainda fresco na memória o dia do desembarque - estava um calor! - e de como depois rolara aos ponta-pés, mal-vestido, mal alimentado, com saudades da broa negra, das sovas da mãe e das caçadas aos grilos pelas charnecas do seu lugar. Pouco a pouco outros grilos cantaram aos seus ouvidos de ambicioso. O som do dinheiro é música; viera para o ganhar, atirou-se ao seu destino, tolerando todas as opressões, dobrando-se a todas as exigências brutais, numa resignação de cachorro. Assim correram anos, dormindo em esteiras infectas, molhando de lágrimas o travesseiro sem fronha, até que o seu mealheiro se foi enchendo, enchendo avaramente. Aquela infância de degredo era agora o seu triunfo. Vinha de longe a sua paixão pelo dinheiro; levado por ela, não conhecera outra na mocidade. Todo o seu tempo, toda a sua vida tinham sido consagrados ao negócio. O negócio era o seu sonho de noite, a sua esperança de dia, o ideal a que atirava a sua alma de adolescente e de moço. Não podia explicar, como, só pelo atrito com pessoas mais cultivadas, ele fora perdendo, aos poucos, a grossa ignorância de que viera adornado. A letra desenvolveu-se, tornou-se firme, e a sua tendência para contos fez prodígios, aguçada com o sentido na verificação de lucros. Relendo cifras, escrevendo cartas, formulando projetos, e observando atentamente o seu trabalho e o alheio, tornara-se um negociante conhecedor do que tinha sob as mãos, e um homem limpo, a quem a sociedade recebia bem. Não pudera ser menino, não soubera ser moço, dera-se todo à deusa da fortuna, sem perceber que lhe sacrificava a melhor parte da vida. Para ele, o Brasil era o balcão, era o armazém atulhado, onde o esforço de cada indivíduo tem o seu prêmio. Fora do comércio não havia nada que lhe merecesse o desvio de um olhar... Tempos de amargura e de esperança, aqueles! Sentia-se só; começava a cansar-se e a enjoar as mulheres fáceis, com quem convivia em relações momentâneas. Mesmo a Sidônia enervava-o com os seus arrufos... e as suas denguiques. Atirou-se a proteger as instituições do seu país, a andar com medalhões e fazer mordomias na Beneficência. No fundo, não era só a distração que ele buscava, nem a caridade que ele exercia; uma outra causa lhe filtrava n'alma aquela vocação para o benefício... E a comenda chegou. Foi só depois de comendador que Teodoro se sentiu vexado daquela habitação e se mudou para um segundo andar da rua da Candelária, que mobiliou a vinhático, com exuberância de cromos pelas paredes. Achou, ainda assim, que à sua casa alegre faltava qualquer coisa... Viera-lhe a dispepsia. Que insônias! Um médico, consultado, aconselhara-lhe uma viagem a terra ou o casamento, para a regularização de hábitos. Ele achara cedo para a viagem: solidificaria primeiro a fortuna.

A ideia do casamento parecia-lhe mais salvadora. Para que lhe serviria o que juntara, se o não compartilhasse com uma esposa dedicada e meia dúzia de filhos que lhe herdassem virtudes e haveres? No seu sonho começou a esboçar-se a ideia de um herdeiro. Teria um rapaz, que usasse o seu nome, seguisse as suas tradições e fosse, sobretudo, um continuador daquela casa da rua de S. Bento, que engrandeceria com o seu prestígio, a sua mocidade, bem assente no apoio e na experiência paterna. O filho seria a sua estátua viva, nele reviveria, mais perfeito e melhor. Esse ao menos teria infância, seria instruído.

Disponível em:

<http://www.dominiopublico.gov.br/pesquisa/DetaileObraForm.do?select_actio n=&co_obra=7552>. Acesso em: 10 jul. 2023.

QUESTÃO 01

O romance *A falência*, de Julia Lopes de Almeida, foi publicado em 1901, embora o seu reconhecimento devido tenha somente se solidificado nos últimos anos, especialmente pela atualidade de sua temática. Sobre a relação do personagem Francisco Teodoro com o trabalho, é possível caracterizá-la como

- (A) meritocrática, como em “Para ele, o Brasil era o balcão, era o armazém atulhado, onde o esforço de cada indivíduo tem o seu prêmio”.
- (B) hipotética, como em “O negócio era o seu sonho de noite, a sua esperança de dia, o ideal a que atirava a sua alma de adolescente e de moço”.
- (C) contingente, como em “Fora do comércio não havia nada que lhe merecesse o desvio de um olhar... Tempos de amargura e de esperança, aqueles!”.
- (D) inata, como em “Relendo cifras, escrevendo cartas, formulando projetos, e observando atentamente o seu trabalho e o alheio, tornara-se um negociante conhecedor do que tinha sob as mãos, e um homem limpo, a quem a sociedade recebia bem”.

QUESTÃO 02

No texto, Francisco Teodoro revê sua vida desde que chegou ao Rio de Janeiro. Considerando aspectos do romance como um gênero textual, a narrativa é realizada

- (A) por um narrador personagem, uma vez que é narrada com riqueza de detalhes e de memórias pelo protagonista.
- (B) por um narrador observador, e é por essa razão que os acontecimentos são trazidos a partir de uma ótica distante e indiferente.
- (C) por meio de um narrador personagem, já que é construída a partir do fluxo do pensamento, sem linearidade espacial ou temporal na narrativa.
- (D) por um narrador onisciente, dado que a narração apresenta não somente os fatos referentes à trama, mas também aspectos íntimos do personagem.

QUESTÃO 03

No excerto “O êxito do Torres quizilava-o. Parecia-lhe que o outro lhe taparia o caminho, impedindo-o de chegar ao seu último ponto de mira. Galgava-lhe de assalto a dianteira, para se quedar sempre na sua frente, como um obstáculo”, evidencia-se a variedade linguística

- (A) geográfica.
- (B) sociocultural.
- (C) histórica.
- (D) estilística.

QUESTÃO 04

Leia o excerto a seguir.

[...] com saudades da broa negra, das sovas da mãe e das caçadas aos grilos pelas charnechas do seu lugar. Pouco a pouco outros grilos cantaram aos seus ouvidos de ambicioso.

Em relação aos processos de produção de sentido, é possível afirmar que a palavra “grilo”, no trecho, é um exemplo de

- (A) hiponímia.
- (B) polissemia.
- (C) ambiguidade.
- (D) inferência.

Leia o Texto 2 para responder às questões de **05 a 08**.

Texto 2

**“PROIBIDO ROUBAR. RISCO DE MORTE”
Facções consolidam hegemonia na Amazônia e impõem falsa pacificação em áreas dominadas**

Fábio Pontes

Na noite do último dia 20 de março, jovens integrantes de facções criminosas da Baixada da Sobral, região com a maior concentração populacional de Rio Branco, receberam um “salve” para sair às ruas. A ordem era marcar território pichando os muros com as iniciais do Comando Vermelho (CV) e o aviso “Proibido Roubar”. Tudo deveria ser registrado em vídeo, para ser enviado aos superiores. Um dos vídeos vazou nas redes sociais. Mostra os “soldados do CV” iluminados pelas luzes de um carro, pichando muros às pressas. Como se ouve no áudio da gravação, a pressa tem motivo: “os homem [polícia] tão atrás de nós, doido, denunciaram”, diz um dos “soldados” na conversa com o chefe. Antes de deixar o local, eles fazem três disparos na direção de uma pessoa que observa, do alto do muro, a “operação”. O alvo não é atingido.

Novidade nos muros da periferia da capital do Acre, as pichações explicitam uma conquista na guerra travada desde 2016 entre o Comando Vermelho e o Primeiro Comando da Capital (PCC) nas regiões de fronteira da Amazônia.

O domínio da região é estratégico para a sobrevivência desses grupos criminosos, que têm no tráfico de drogas a principal fonte de financiamento. Segundo dados do Fórum Brasileiro de Segurança Pública (FBSP), o tráfico de cocaína faz circular o equivalente a 4% do PIB brasileiro, o que daria uma cifra em torno de 64 bilhões de dólares. E as rotas que passam pelos estados da Amazônia Legal responderiam por 40% desse volume de dinheiro, cerca de 25 bilhões de dólares.

[...]

“Abaxe o vidro para sua segurança”, diz uma pichação característica das áreas dominadas pelo PCC/B13. “Proibido roubar morador”, lê-se em outra parede. “Passa nada”, ou “Não passa nada”, uma gíria de intimidação aos inimigos, deixando claro que entrar ali é um risco. “Proibido rouba na quebrada. Pagar com a vida”, ou “Proibido roubar. Risco de morte”, avisam os recados cercados pelas iniciais do CV. Apesar de ser mais comum encontrar marcações do PCC/B13, a maior parte dos bairros da periferia de Rio Branco está sob controle do Comando Vermelho.

[...]

O diretor-presidente do Fórum Brasileiro de Segurança Pública (FBSP), Renato Sérgio de Lima, diz que o objetivo da facção, além de impor medo, é angariar legitimidade diante da população das áreas dominadas. “É claro que é uma lei do terror, do medo, mas não é só do medo. Eles estão tentando angariar legitimidade diante da população para poder se fazer presente ali. Evitando que os roubos aconteçam, eles não querem que a polícia vá ao lugar, mas também querem que a população proteja o negócio deles. É uma relação de troca muito perversa, porque quem está com as armas são eles.” Com isso, diz, a população se torna refém desse clima de falsa paz — que na verdade é um clima de guerra.

[...]

Para o coronel da Polícia Militar José Américo Gaia, atual secretário de Justiça e Segurança Pública (Sejusp) do Acre, todos esses casos de proibição de roubos e a implementação do “tribunal do crime” não passam de uma estratégia de marketing das facções, para passar a impressão de perda de autoridade por parte do Estado. Ele classifica como hollywoodianos os relatos de moradores recorrerem aos chefes das facções para reaver bens furtados. [...] “Eu não diria que no Acre existe uma ausência do Estado. Eu diria que existe uma propaganda de algumas coisas que eles querem implementar. Eles querem colocar isso nos bairros, sendo que no Acre não podemos dizer que a gente perdeu o controle sobre a segurança pública nos bairros”, afirma o secretário. “Isso é uma propaganda. Não retrata e não condiz com a realidade.”

Disponível em: <<https://piaui.folha.uol.com.br/proibido-roubar-risco-de-morte>>
Acesso em: 11 jul. 2023.

QUESTÃO 05

Nos dois últimos parágrafos, são apresentadas as falas das duas figuras de autoridade entrevistadas na reportagem. Os dois posicionamentos

- (A) contradizem-se em relação ao domínio das facções na periferia de Rio Branco – o primeiro entrevistado o reconhece, o segundo entrevistado o diminui.
- (B) concordam com o fato de que o poder paralelo é o principal poder reconhecido pelos acreanos.
- (C) hesitam em reconhecer o poder paralelo das facções na cidade de Rio Branco.
- (D) refutam o fato de que a periferia de Rio Branco é controlada pelas facções.

QUESTÃO 06

O uso de aspas como sinal de pontuação no texto

- (A) sinaliza os desvios linguísticos presentes nas pichações do Comando Vermelho.
- (B) indica o efeito ironia nas expressões pichadas pelo comando vermelho nos muros da cidade de Rio Branco, no Acre.
- (C) organiza os turnos de fala na reprodução do diálogo entre o chefe do comando vermelho e o secretário de justiça e segurança pública do Acre.
- (D) destaca a presença da intertextualidade na elaboração da reportagem sobre as pichações do comando vermelho em Rio Branco.

QUESTÃO 07

Ao analisar o seguinte excerto: “os homem [polícia] tão atrás de nós, doido, denunciaram”, é possível afirmar que

- (A) a ausência de concordância nominal e verbal prejudica a produção de sentido do texto.
- (B) o adjetivo “doido”, no excerto, assume a função de substantivo, já que atua como um vocativo isolado entre vírgulas.
- (C) a regência verbal em “denunciaram” segue a gramática normativa, já que “denunciar” é um verbo que não exige complemento.
- (D) o uso dos colchetes no excerto substitui o uso das aspas simples.

QUESTÃO 08

As frases e expressões pichadas nos muros foram fielmente reproduzidas no texto da reportagem, inclusive com os desvios de língua, como é o caso em “Proibido rouba na quebrada. Pagar com a vida”. A presença destas frases e expressões se justifica por se tratar de

- (A) uma reportagem, já que é esperado que um gênero jornalístico apresente as informações exatamente como foram apuradas, sem qualquer tipo de intervenção.
- (B) uma tentativa de menosprezar a capacidade intelectual dos pichadores ao reproduzir as inadequações linguísticas das frases e das expressões.
- (C) um texto escrito na variedade informal da língua, e por essa razão as pichações também foram escritas fora do padrão normativo da língua.
- (D) uma reportagem publicada em um portal de notícias *online*, em que a preocupação com a ortografia é menor do que em um jornal impresso, visto que esse é o padrão de comunicação nas redes.

Leia o Texto 3 para responder às questões 09 e 10.

Texto 3

Disponível em:

<<https://www1.folha.uol.com.br/ilustrada/cartum/cartunsdiarios/#6/4/2023>>.

Acesso em: 10 jul. 2023.

QUESTÃO 09

As expressões “manda coraçãozinho” e “amor não visualizado” fazem referência

- (A) ao processo de ironia como um mecanismo de produção de sentido.
- (B) ao uso de linguagem verbal e não-verbal na comunicação nas redes sociais.
- (C) ao processo de criação de novas palavras na língua portuguesa.
- (D) ao uso da linguagem formal em textos que circulam em ambientes virtuais.

QUESTÃO 10

A construção do humor no texto se estabelece a partir de uma observação sobre

- (A) o modo como as crianças descrevem o amor em um contexto virtual.
- (B) o uso excessivo de redes sociais por parte da sociedade brasileira.
- (C) as novas formas de amor, influenciadas pelas formas de interação nas redes sociais.
- (D) a infantilização da linguagem nas redes sociais.

QUESTÃO 11

O Imposto sobre a Propriedade de Veículos Automotores (IPVA) incide sobre o valor venal do veículo disponível na tabela FIPE (tabela divulgada pela Fundação Instituto de Pesquisas Econômicas), e sua alíquota varia entre os estados brasileiros. Por exemplo, no estado de Goiás, onde a alíquota é de 3,75% do valor venal do veículo, o valor do IPVA de certo veículo é R\$ 522,50 a mais do que o valor do IPVA do mesmo veículo, no Distrito Federal, onde a alíquota é de 3,5%. Com base nessas informações, qual é o valor venal desse veículo, em reais?

- (A) R\$ 209.000,00.
 (B) R\$ 290.000,00.
 (C) R\$ 2.090.000,00.
 (D) R\$ 2.900.000,00.

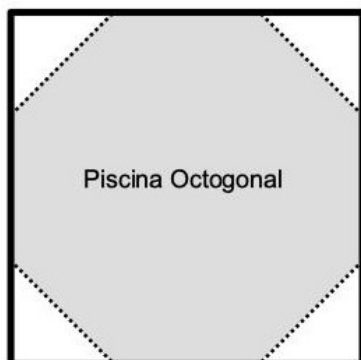
QUESTÃO 12

Em uma transportadora, o preço pago para transportar uma embalagem é diretamente proporcional ao seu volume. Para transportar uma embalagem no formato de um hexaedro regular, com aresta de 30 cm, por exemplo, paga-se R\$ 121,50. Nessas condições, qual deve ser o preço, em reais, para transportar uma embalagem com formato de hexaedro regular, com aresta de 40 cm?

- (A) R\$ 298,00.
 (B) R\$ 288,00.
 (C) R\$ 162,00.
 (D) R\$ 152,00.

QUESTÃO 13

Uma região plana e quadrada de uma praça foi destinada para a construção de um chafariz, que deve ser alocado no interior de um tanque (ou piscina), coletor da água jorrada pelas bicas do chafariz. Para tal construção, o pedreiro marcou no chão quatro triângulos a partir de cada um dos vértices desse quadrado, como mostra a figura a seguir. Desse modo, construiu uma piscina coletora com formato de octógono regular.



Sabendo que o lado da região quadrada mede 16 metros e que os quatro triângulos desenhados pelo pedreiro são isósceles, qual é a medida, em metros, do lado do octógono regular?

- (A) $8(\sqrt{2} + 1)$
 (B) $8(\sqrt{2} - 1)$
 (C) $16(\sqrt{2} + 1)$
 (D) $16(\sqrt{2} - 1)$

QUESTÃO 14

Um fundo de investimento obteve um lucro, em reais, de $3,08 \times 10^{10}$. Esse valor será dividido igualmente entre os $8,8 \times 10^7$ beneficiários do fundo. Nessas condições, cada um receberá a quantia, em reais, de

- (A) $0,035 \cdot 10^3$
 (B) $0,35 \cdot 10^{10}$
 (C) $3,5 \cdot 10^2$
 (D) $3,5 \cdot 10^{10}$

QUESTÃO 15

Em agências de correio estadunidenses, o valor da postagem é cobrado de acordo com sua massa, medida em onças (uma onça é aproximadamente 28 gramas), do modo destacado a seguir.

- Cobra-se US\$ 0,75 pela primeira onça, ou seja, por postagens com até uma onça;
- Cobra-se mais US\$ 0,50 para cada onça, ou fração de onça, adicional.

Por exemplo, uma postagem com 1,2 onças pagaria US\$ 0,75 pela primeira onça, mais US\$ 0,50 pela fração de onça adicional, ou seja, pagaria US\$ 1,25. Considerando x como a massa, em onças, de uma postagem que custou US\$ 7,75 para ser enviada, x é dado por

- (A) $11 < x \leq 12$
 (B) $12 < x \leq 13$
 (C) $13 < x \leq 14$
 (D) $14 < x \leq 15$

QUESTÃO 16

Leia o texto a seguir.

Os problemas encontrados na placa VAT 8389, que pertence ao Museu de Berlim e que remonta à primeira dinastia babilônica (1900 a.C.), são exemplos de problemas envolvendo sistemas de equações. Essa placa contém problemas sobre a produção de cereal, sendo que um *sila* corresponde a 1 dm^3 e um *sar* corresponde a 36 m^2 .

O problema 1 da Placa VAT 8389 pode ser escrito da seguinte maneira:

“De dois campos, um produz $\frac{2}{3}$ *sila* por *sar*, o outro produz $\frac{1}{2}$ *sila* por *sar*. A produção do primeiro campo é 500 *silas* a mais que o segundo campo. As áreas dos dois campos ocupam juntas 1800 *sar*. Que área tem cada campo?”

Os métodos de resolução utilizados pelos babilônios mostram que eles também compreendiam a linearidade.

PEREIRA, A. M. Q. **Equações Algébricas**: alguns episódios históricos. 2017. (Dissertação). Universidade de Lisboa. Faculdade de Ciências Matemática. [Adaptado].

Com base nessas informações, a área do primeiro campo é superior à área do segundo campo em quantos metros quadrados?

- (A) 21.600.
(B) 28.800.
(C) 43.200.
(D) 64.800.

QUESTÃO 17

Uma indústria têxtil coloca uma etiqueta em cada peça de roupa produzida com orientações quanto à forma correta de realizar as seguintes ações: lavar, alvejar, secar, passar e limpar a seco. Essas informações são colocadas nas etiquetas, de acordo com os símbolos mostrados na figura a seguir.




Disponível em: <<https://g1.globo.com/sp/itapetininga-regiao>>. Acesso em: 18 jul. 2023.

Considerando que, em cada etiqueta, deve haver uma única indicação de como realizar cada uma das ações, a quantidade de etiquetas diferentes que podem ser produzidas é

- (A) 200.
(B) 960.
(C) 1.200.
(D) 2.530.

QUESTÃO 18

Em abril do ano de 2023, havia aproximadamente 12,2 milhões de Microempresários Individuais (MEIS) em atividade no país. Isso indica um crescimento, em relação ao mesmo mês do ano de 2019, conforme destacado no infográfico a seguir, em que a quantidade de pessoas representadas é proporcional à quantidade real.



Disponível em: <<https://piaui.folha.uol.com.br>>. Acesso em: 18 jul. 2023. [Adaptado].

Com base nessas informações, em abril de 2019, a quantidade de MEIS no Brasil, em milhões de pessoas, foi aproximadamente

- (A) 4.
(B) 6.
(C) 8,13.
(D) 8,3.

RASCUNHO

QUESTÃO 19

Leia o caso a seguir.

"Adivinhe minha regra" é um jogo usado em sala de aula do seguinte modo:

- Um estudante A inventa uma "regra", ou seja, uma sequência de operações a ser feita a partir de um número dado, escreve-a em seu caderno, mas não mostra a ninguém;
- Os outros estudantes, cada um na sua vez, falam um número qualquer ao estudante A;
- O estudante A anota na lousa o número falado e em seguida, anota o resultado de acordo com sua regra;
- Ao final de cada rodada, qualquer estudante pode tentar adivinhar a regra.

Em certo dia, os números falados ao estudante A e os resultados obtidos foram os seguintes:

Número falado	Resultado, após a aplicação da regra do estudante A
3	-9
0	3
-2	11
1	-1

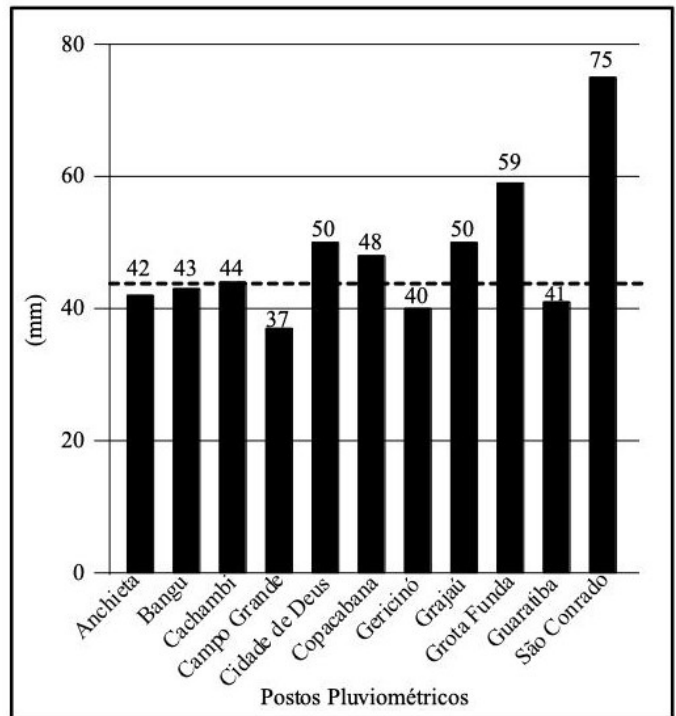
Com base nessas informações, ao ser falado o número 4 para o estudante A, o resultado, após a aplicação da regra, será

- (A) 10.
 (B) -13.
 (C) 19.
 (D) -6.

RASCUNHO

QUESTÃO 20

O gráfico a seguir apresenta a precipitação da chuva, em mm, em alguns bairros da cidade do Rio de Janeiro, em um determinado dia.



Disponível em: <<http://alertario.rio.rj.gov.br>>. Acesso em: 09 jul. 2023.

Destacada no gráfico em linha pontilhada, há uma medida de tendência central, calculada com base nos dados apresentados no gráfico. Essa medida de tendência central é a

- (A) média.
 (B) moda.
 (C) variância.
 (D) mediana.

RASCUNHO

QUESTÃO 21

Embora sejam crimes e ensejam a responsabilidade penal, os conceitos jurídicos de injúria racial e racismo são diferentes. O primeiro está contido no Código Penal brasileiro e o segundo, previsto na Lei nº 7.716/1989. A diferença mais notável entre os crimes de injúria racial e racismo, quanto ao alcance da ofensa, é que

- (A) a injúria racial cabe apenas no caso dos quilombolas.
- (B) a injúria racial leva em conta apenas a violência física.
- (C) o crime de racismo atinge uma coletividade indeterminada.
- (D) o crime de racismo não enseja a prisão do ofensor.

QUESTÃO 22

No dia 02 de fevereiro de 2022, deflagrou-se um conflito armado entre dois países, sendo um pertencente ao continente europeu e outro ao continente europeu e asiático. Esse conflito tem chamado a atenção do mundo e alguns líderes mundiais têm estudado soluções para colocar fim à guerra que, inclusive, assusta as nações com a ameaça nuclear. Um desses países, para se proteger, almeja fazer parte de uma organização intergovernamental de aliança político-militar, que tem como objetivo garantir a segurança de seus países-membros por meio de ações específicas. Esse país e a organização intergovernamental são, respectivamente,

- (A) Rússia e OTAN (Organização do Tratado do Atlântico Norte).
- (B) Ucrânia e OTSC (Organização do Tratado de Segurança Coletiva).
- (C) Rússia e OTSC (Organização do Tratado de Segurança Coletiva).
- (D) Ucrânia e OTAN (Organização do Tratado do Atlântico Norte).

QUESTÃO 23

Situada na estratosfera, de uma altitude de 20 km a 35 km da superfície terrestre, a camada de ozônio vem diminuindo com a emissão de gases tóxicos. Esse processo

- (A) está comprovado que pouco afeta a vida no planeta.
- (B) pode causar danos à saúde humana e prejuízos ecológicos.
- (C) carece de comprovação pelos estudos da maioria dos cientistas.
- (D) é pouco preocupante, pois após medidas de redução estará totalmente controlado.

QUESTÃO 24

No dia 1º de Maio de 2023, na França, milhares de pessoas foram às ruas para protestarem, ocorrendo diversos confrontos entre os manifestantes e a polícia. Os protestos foram motivados pela indignação da maioria da população contra um projeto de lei validado no dia 14 de abril de 2023 pelo Conselho Constitucional, e promulgado pelo presidente do país, Emmanuel Macron, no dia 15 de abril. Esse projeto de lei que motivou os protestos refere-se

- (A) aos protestos da França na União Europeia.
- (B) aos atos terroristas ocorridos no país.
- (C) à acolhida dada aos imigrantes.
- (D) à reforma da Previdência.

QUESTÃO 25

Leia o texto a seguir.

BRIC era a sigla referente a um grupo de países do qual o Brasil faz parte. A união desses países deveu-se ao fato de constituírem grandes economias mundiais com capacidade de influenciar a sociedade internacional. A ideia dos BRIC foi formulada pelo economista-chefe do grupo financeiro Goldman Sachs, Jim O'Neil, em estudo de 2001, intitulado "Building Better Global Economic BRICs". [...] Em 2006, o conceito deu origem a um agrupamento propriamente dito, incorporado à política externa de quatro países. Em 2011, por ocasião da III Cúpula, outro país passou a fazer parte do agrupamento, que adotou a sigla BRICS.

Disponível em: <<https://www.ipea.gov.br/forumbrics/pt-BR/conheca-os-brics.html#:~:text=O%20peso%20econ%C3%B4mico%20dos%20BRICS,ou%20o%20da%20Uni%C3%A3o%20Europeia>>. Acesso em: 20 jul. 2023.

Qual foi esse país?

- (A) Arábia Saudita.
- (B) África do Sul.
- (C) Somália.
- (D) Sudão do Sul.

RASCUNHO

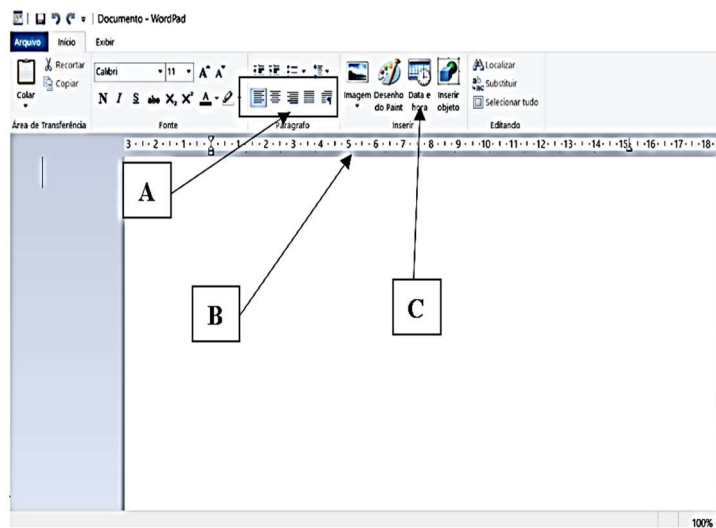
QUESTÃO 26

O Windows 10 é uma das versões do sistema operacional da Microsoft. O que está localizado na barra de tarefas desse S.O.?

- (A) Iniciar e a área de notificação.
- (B) Formatar programas.
- (C) Arquivo setup.exe.
- (D) Inserir arquivos.

QUESTÃO 27

O WordPad é um processador de texto com recursos simples e está disponível no Sistema Operacional Windows 10 da Microsoft. Na figura a seguir, há uma janela do Wordpad com 3 pontos de marcação.



Os nomes das marcações A, B e C são, respectivamente:

- (A) A = Barra de menus; B = Régua do Wordpad; C = Inserir data e hora.
- (B) A = Barra de ferramentas; B = Régua do Wordpad; C = Barra de status.
- (C) A = Barra de menus; B = Régua do Wordpad; C = Barra de status.
- (D) A = Alinhamentos; B = Régua do Wordpad; C = Inserir data e hora.

QUESTÃO 28

No Microsoft Word 2021, qual ferramenta é utilizada para copiar a formatação de um objeto (estilo de fonte, tamanho e cor) e aplicá-la a outro?

- (A) Estrutura de documento.
- (B) Pincel de formatação.
- (C) Cor de realce do texto.
- (D) Hiperlink.

QUESTÃO 29

No Microsoft Word 2021, a correção ortográfica pode ser realizada seguindo os comandos:

- (A) exibição – ortografia e gramática.
- (B) inserir – revisão ortográfica.
- (C) revisão – ortografia e gramática.
- (D) exibição – revisão ortográfica.

QUESTÃO 30

Analise a planilha a seguir.

	A	B	C	D
1	Funcionário	Salário		
2	Janaina Soares	RS 2.300,00		
3	Karla Aparecida Rodrigues	RS 1.600,00		
4	Marta Silva Almeida	RS 1.890,00		
5	Vinicius Machado da Silva	RS 1.700,00		
6	Total	RS 7.490,00		
7	Quantos funcionários tem o salário >= R\$ 1.800,00	2		
8	Menor salário	RS 1.600,00		
9				
10				
11				
12				
13				

Com base no Microsoft Excel 2021, qual alternativa apresenta, respectivamente, as fórmulas aplicadas nas células B6, B7 e B8?

- (A) = SOMA (B2; B5), = CONT.SE (B2: B5;"< = 1800"), = MÍNIMO (B2:B5).
- (B) = SOMA (B2:B5), = CONT.SE (B2: B5;"> = 1800"), = MÁXIMO (B2:B5).
- (C) = SOMA (B2; B5), = CONT.SE (B2: B5;" < = 1800"), = MÍNIMO (B2;B5).
- (D) = SOMA (B2: B5), = CONT.SE (B2: B5;" >= 1800"), = MÍNIMO (B2;B5).

RASCUNHO

QUESTÃO 31

Sabe-se que a legislação divide os agentes públicos em duas espécies – agentes políticos e servidores públicos, cada um com suas características próprias. Sobre as características dos servidores públicos, pode-se afirmar que eles são

- (A) responsáveis por agirem em prol do Estado, servindo-o e representando-o em todas as fases de realização das políticas sociais públicas e no atendimento à população.
- (B) sujeitos, no exercício de suas atribuições, a duas ordens de responsabilidades: administrativa e civil.
- (C) indivíduos que compõem os altos escalões do poder e são responsáveis pela elaboração das diretrizes de atuação governamental.
- (D) pessoas investidas no âmbito de um órgão, com competências executórias e tendo seus direitos e deveres sendo regulados por meio de uma lei.

QUESTÃO 32

O processo administrativo no âmbito da Administração Pública Federal está regulamentado através da Lei nº 9.784, de 1999. Essa norma trouxe inúmeras regras para o procedimento, dentre elas a de que

- (A) terão prioridade na tramitação os procedimentos administrativos em que figure, como parte ou interessada, pessoa portadora de moléstia profissional.
- (B) poderá a decisão em sede de recurso administrativo ser delegada, sendo proferida nos limites de atuação do delegado, na duração e nos objetivos da delegação.
- (C) é direito do administrado ter ciência da tramitação dos processos administrativos em que tenha a condição de interessado, bem como vista dos autos.
- (D) fazer-se assistir facultativamente por advogado é dever do administrado perante a Administração, salvo quando obrigatória a representação, por força de lei.

QUESTÃO 33

É vedado ao servidor público

- (A) facilitar a fiscalização dos atos por quem de direito.
- (B) apresentar-se habitualmente embriagado fora do serviço.
- (C) divulgar a existência de Código de Ética do órgão.
- (D) comunicar aos superiores atos e fatos contrários ao interesse público.

QUESTÃO 34

Recentemente, a Lei Geral de Improbidade Administrativa – Lei nº 8.429, de 1992, foi severamente alterada. Alguns juristas apontam que as mudanças representam um verdadeiro retrocesso social, enquanto outros elogiam o texto, que trouxe mais segurança aos agentes públicos. Mas o fato é que a lei manteve a previsão de condutas vedadas e suas respectivas punições. Assim, considera-se ato improprio

- (A) a apresentação pelo agente público, no ato de sua nomeação e posse, de declaração de bens falsa, sujeitando-o à pena de demissão.
- (B) a autorização de despesa sem observar as regras pertinentes, sujeitando-se à suspensão dos direitos políticos por até 14 anos e perda da função pública.
- (C) a utilização de veículo público em proveito próprio, salvo se o servidor abastecer o veículo, deixando, assim, de causar prejuízo à Administração.
- (D) a aquisição de bens por preço superior ao de mercado, salvo se realizada por meio de procedimento de licitação.

QUESTÃO 35

Leia o caso a seguir.

Durante a execução de um contrato de fornecimento de merenda escolar, T., agindo ardilosamente, prestou falsa declaração de recebimento de itens não entregues, a fim de dividir com a empresa o valor da referida Nota Fiscal. Após atestar a execução, o processo de pagamento foi dirigido ao setor financeiro do órgão. O fato virou buchicho na cidade e por isso foi solicitado, por meio da Ouvidoria do órgão, acesso à Nota Fiscal atestada. M., Secretário de Fazenda, recusou a publicidade dos atos e documentos solicitados, objetivando apenas encerrar o buchicho que tomou conta do município.

Considerando a situação hipotética, qual poderá ser uma possível consequência das ações tomadas pelos servidores?

- (A) T., por fazer declaração sobre o recebimento dos itens, poderá ser sujeito ativo na ação para punir os responsáveis pela improbidade, e a empresa também, se tiver sido constituída há mais de um ano.
- (B) M. estará sujeito à aplicação de sanção do tipo multa, no valor de até 24 vezes o valor da sua remuneração, por negar publicidade dos atos oficiais sem qualquer justificativa.
- (C) T., falecendo no decorrer da investigação, não isentará seus herdeiros da reparação do dano causado ao erário na integralidade do valor, independentemente do valor da herança, por tratar-se de crime imprescritível.
- (D) M. não responderá por ato de improbidade, uma vez que o seu ato ilegal de não conceder acesso ao documento não está tipificado na Lei de Improbidade, mas sim na Lei de Acesso à Informação.

QUESTÃO 36

A Lei de Acesso à Informação – LAI completa, neste ano, 12 anos de promulgação. Ela representou um avanço na busca pelo cumprimento dos princípios administrativos. Trouxe em seu texto procedimentos para acessar a informação junto aos órgãos e condutas vedadas aos agentes públicos sem qualquer obscuridade, plenamente aplicáveis. Considerando o procedimento de solicitação de acesso à informação, o órgão poderá negar

- (A) o acesso de forma fundamentada, cabendo ao requerente apresentar recurso à autoridade hierarquicamente superior à que proferiu a decisão, no prazo de quinze dias contados da ciência da decisão.
- (B) o acesso, caso a informação em seu poder seja classificada como sigilosa, observado o seu teor e em razão da segurança do Estado ou da sociedade, pelo prazo de vinte e cinco, quinze ou cinco anos, a depender da sua classificação.
- (C) a informação constante em documentos decorrentes de inspeções internas e auditorias, ou ainda que tratem da administração do patrimônio público e utilização dos recursos públicos.
- (D) a informação, caso ela esteja na agenda institucional de Ministro de Estado, que no exercício de suas atribuições, e em razão delas, não queira divulgar os dados das pessoas que estiveram em seu gabinete.

QUESTÃO 37

A Constituição Federal de 1988 é conhecida por dedicar vários artigos aos Direitos e Garantias Fundamentais. Elencou variadas situações que garantem minimamente a dignidade do cidadão. Considerando essas garantias mínimas, é direito do cidadão brasileiro

- (A) optar por tornar esse direito possível ou não de ser exercitado, uma vez que se trata de direito inalienável.
- (B) candidatar e reeleger-se a Presidente da República, Deputado Federal, Governador de Estado ou Prefeito por um único período subsequente.
- (C) exercer a sua liberdade de expressão, garantido, no entanto, o direito de resposta e eventual pleito judicial por indenização em relação ao dano causado.
- (D) zelar pelos seus direitos individuais, reconhecidamente absolutos pelo Supremo Tribunal Federal recentemente.

QUESTÃO 38

A Constituição Federal, ao apresentar os direitos e garantias fundamentais, faz diferenciação do pleno exercício deles aos brasileiros natos, naturalizados e os estrangeiros residentes no país. Considerando essa diferenciação, o estrangeiro residente em território nacional possui direitos

- (A) fundamentais inferiores aos dos brasileiros e não possuem direitos políticos.
- (B) fundamentais iguais aos do brasileiro, mas direitos políticos inferiores.
- (C) políticos e fundamentais idênticos aos dos brasileiros naturalizados.
- (D) políticos e fundamentais inferiores aos dos brasileiros.

QUESTÃO 39

A Constituição Federal prevê expressamente alguns princípios da Administração Pública. São eles:

- (A) comodidade, pessoalidade, eficiência, publicidade e moralidade.
- (B) moralidade, prosperidade, publicidade, competência e eficiência.
- (C) legalidade, irretroatividade, moralidade, prosperidade e eficácia.
- (D) impessoalidade, publicidade, eficiência, moralidade e legalidade.

QUESTÃO 40

Os atos administrativos são toda manifestação unilateral de vontade da Administração Pública que, agindo nessa qualidade, tenha por fim imediato adquirir, resguardar, transferir, modificar, extinguir e declarar direitos, ou impor obrigações aos administrados ou a si própria. Assim, o ato administrativo será considerado uma

- (A) licença quando conferir direitos ao particular que preencheu todos os requisitos legais, sendo classificado ainda como vinculado e definitivo.
- (B) autorização quando conferir direitos ao particular que preencheu todos os requisitos legais, sendo classificado ainda como vinculado e precário.
- (C) licença quando a administração permitir ao particular o exercício de atividade ou serviço ou a utilização de bens, sendo classificado como discricionário e definitivo.
- (D) autorização quando a administração permitir ao particular o exercício de atividade ou serviço ou a utilização de bens, sendo classificado como vinculado e precário.

QUESTÃO 41

Qual é o serviço cuja função é a coleta de informações relacionadas com possíveis ameaças à segurança da organização?

- (A) De especulação.
- (B) De espionagem.
- (C) De inteligência.
- (D) De contraespionagem.

QUESTÃO 42

Qual é a fonte de informação coletada a partir da interceptação e decodificação de comunicações e ondas eletromagnéticas?

- (A) Humana (*humint*).
- (B) Sinais (*sigint*).
- (C) Imagens (*imint*).
- (D) Medição (*masint*).

QUESTÃO 43

Quem é o profissional responsável pela elaboração do plano de segurança?

- (A) Projetista.
- (B) Comprador.
- (C) Consultor de segurança.
- (D) Integrador de Segurança.

QUESTÃO 44

Qual é o documento que especifica o sistema de segurança a ser adquirido?

- (A) A requisição da proposta.
- (B) O plano de segurança.
- (C) O projeto básico.
- (D) A norma técnica.

QUESTÃO 45

Na elaboração de um projeto, a metodologia de *site survey* é utilizada em que etapa?

- (A) Levantamento de campo.
- (B) Requisitos de projeto.
- (C) Requisição de compra.
- (D) Plano de Segurança.

QUESTÃO 46

Na classificação de sistemas de segurança, qual é o conjunto de sistemas que se destina à proteção de pessoas e de patrimônio?

- (A) De alarme de intrusão.
- (B) De detecção de incêndio.
- (C) De proteção perimetral.
- (D) De controle de acesso.

QUESTÃO 47

Do que trata a segurança corporativa estratégica?

- (A) Do planejamento das atividades do agente de polícia em relação à segurança patrimonial da corporação.
- (B) Do planejamento operacional de controle de entrada, saída de pessoal e veículos em uma determinada área da corporação.
- (C) Do planejamento tático de detecção e combate de incêndio nos ambientes de trabalho dos empregados e armazenamento de materiais.
- (D) Do planejamento de segurança no âmbito de uma corporação envolvendo gestores, vigilantes e equipamentos eletrônicos de segurança.

QUESTÃO 48

Na ótica contemporânea, o gestor e os profissionais da área de segurança devem

- (A) atentar-se para as atitudes, técnicas e táticas corretas, bem como para o uso em alta escala das mais variadas tecnologias disponíveis.
- (B) atentar-se somente para as ações ocorridas no passado, a fim de evitar riscos e perdas presentes e futuras.
- (C) ter clareza de que inteligência e segurança são métodos distintos que não se confundem e nem se completam.
- (D) respeitar, tanto quanto possível, os paradigmas da organização, exceto em situações de manejo de emergência.

QUESTÃO 49

O tipo de segurança que compreende um conjunto de medidas voltadas para proteger o patrimônio físico, os bens móveis e imóveis, que permite o adequado funcionamento de uma organização é a segurança de

- (A) pessoas.
- (B) material.
- (C) instalações.
- (D) informação.

QUESTÃO 50

Para detectar a abertura de uma porta, qual é o sensor mais adequado?

- (A) Magnético.
- (B) Linear.
- (C) De barreira.
- (D) Infravermelho passivo.

QUESTÃO 51

Em uma câmera de CFTV, a resolução total de um sensor de imagem com 1.280 x 1.960 (V x H) elementos de imagem é de

- (A) 3,0MP.
- (B) 2,7MP.
- (C) 2,5MP.
- (D) 1,2MP.

QUESTÃO 52

Qual deve ser o menor HD a ser instalado em um DVR para gravar imagens de 16 câmeras de CFTV com taxa de transmissão de 768kbps, gravando 24 horas por dia durante 30 dias?

- (A) 2TB.
- (B) 4TB.
- (C) 6TB.
- (D) 8TB.

QUESTÃO 53

Qual tipo de alarme é utilizado na segurança de perímetro?

- (A) Sensor de micro-ondas ajustável.
- (B) Sensor de movimento infravermelho passivo.
- (C) Sensor de movimento infravermelho ativo.
- (D) Sensor infravermelho ativo de quatro feixes.

QUESTÃO 54

Quais são respectivamente as impedâncias características de cabo coaxial e par trançado utilizados em sistema de CFTV?

- (A) 50Ω / 100Ω.
- (B) 75Ω / 100Ω.
- (C) 50Ω / 300Ω.
- (D) 75Ω / 300Ω.

QUESTÃO 55

O conflito é uma consequência natural das relações interpessoais em qualquer organização, podendo gerar resultados positivos e negativos, dependendo da forma como são tratados. Os conflitos geram uma repercussão positiva quando

- (A) favorecem a percepção estereotipada a respeito dos envolvidos.
- (B) concentram-se em reduzir a coesão grupal.
- (C) funcionam como catalizadores para atingir metas.
- (D) causam tensão excessiva nos envolvidos, tanto física como mental.

QUESTÃO 56

Para Berg (2012), que tipo de conflito traz inquietações, dissonâncias pessoais do indivíduo e reflete em um abismo entre o que se diz e faz, ou contraste entre o que se pensa e como age?

- (A) Pessoal.
- (B) Interpessoal.
- (C) Organizacional.
- (D) Experienciado.

QUESTÃO 57

Que tipo de *malware* cria uma rede de computadores contaminados?

- (A) Cavalo de troia.
- (B) *Storm Worm*.
- (C) Bomba lógica.
- (D) *Spyware*.

QUESTÃO 58

Como se chama um possível evento que pode ter um efeito prejudicial sobre a confiabilidade da informação levando em consideração os perigos ao qual está exposto?

- (A) Vulnerabilidade.
- (B) Dependência.
- (C) Ameaça.
- (D) Risco.

QUESTÃO 59

Leia o texto a seguir.

Garantir que os recursos estejam disponíveis por meio de mecanismos seguros, definir políticas de acesso ao conteúdo protegido e estabelecer processos para proteger a integridade dos dados armazenados.

Esses são atributos dos

- (A) usuários dos dados.
- (B) *softwares* de segurança.
- (C) equipamentos de segurança.
- (D) profissionais de segurança.

QUESTÃO 60

Sobre o que a Resolução CONSUNI Nº 12/2017 dispõe?

- (A) Sobre normas e procedimentos a serem adotados em casos de assédio moral, sexual e quaisquer formas de preconceito, no âmbito da UFG.
- (B) Sobre a implantação de uma Política de Segurança na UFG.
- (C) Sobre o uso de nome social no âmbito da UFG.
- (D) Sobre a regulamentação do uso de espaços da UFG para a realização de atividades festivas, de lazer, culturais e eventos de maior porte.

RASCUNHO